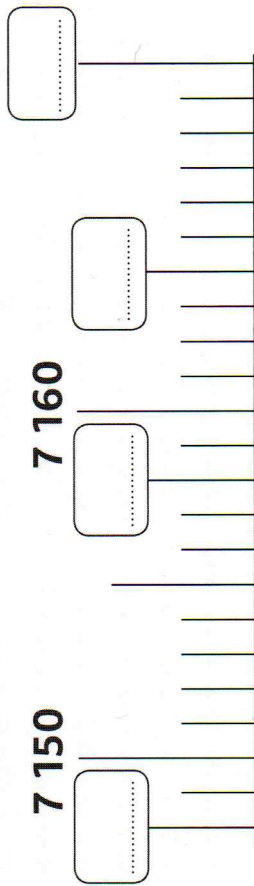
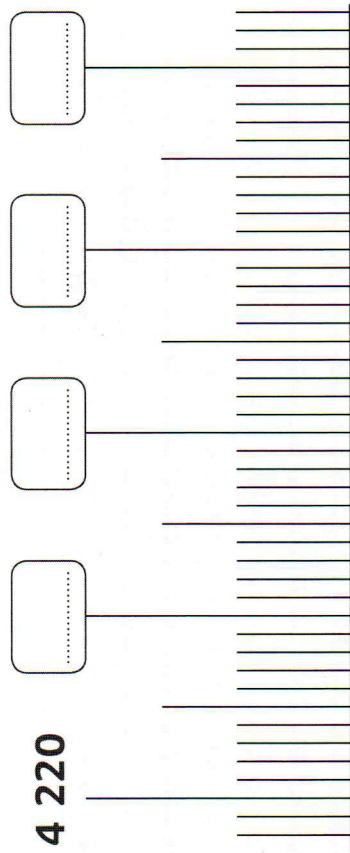


# Exercices numération

1 Écris les nombres manquants.

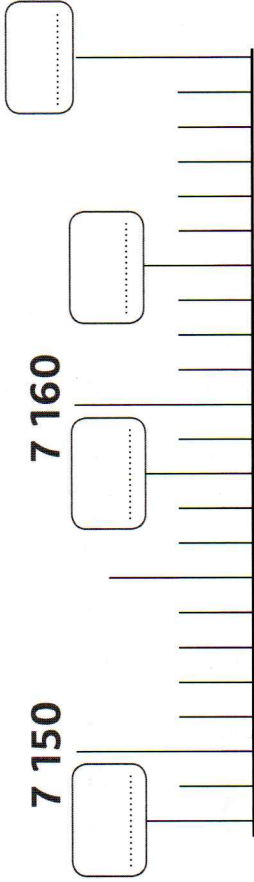
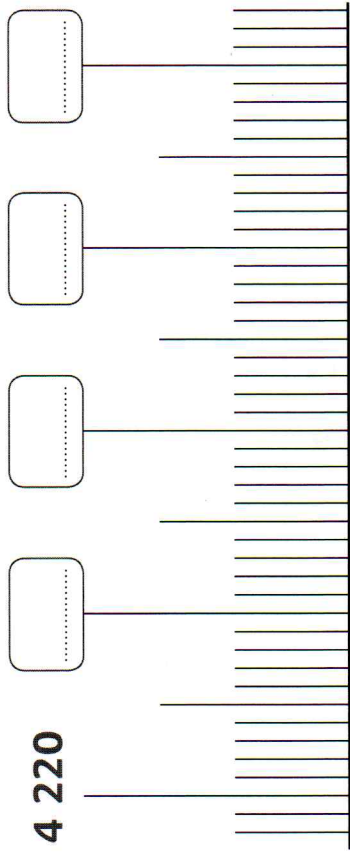


2 Complète le tableau comme dans l'exemple de la première ligne.

Nombre	Nombre suivant	Dizaine suivante	Centaine suivante
2 537	2 538	2 540	2 600
1 472	.....	.....	.....
4 055	.....	.....	.....
6 790	.....	.....	.....

# Exercices numération

1 Écris les nombres manquants.



2 Complète le tableau comme dans l'exemple de la première ligne.

Nombre	Nombre suivant	Dizaine suivante	Centaine suivante
2 537	2 538	2 540	2 600
1 472	.....	.....	.....
4 055	.....	.....	.....
6 790	.....	.....	.....

