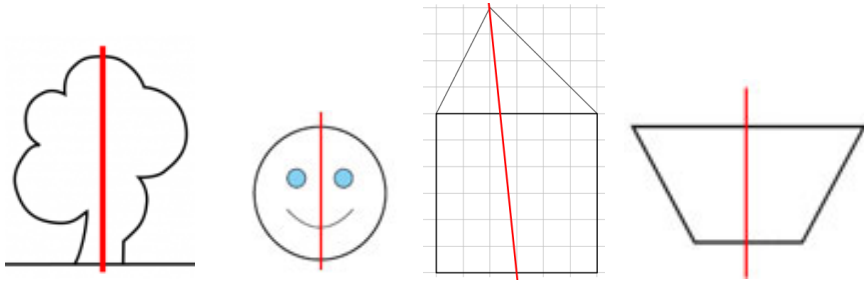



Exercice :

Entoure les figures pour lesquelles l'axe est un axe de symétrie :



Exercice :

Découpe ces figures et plie-les pour trouver leur axe de symétrie puis trace-le sur les figures :

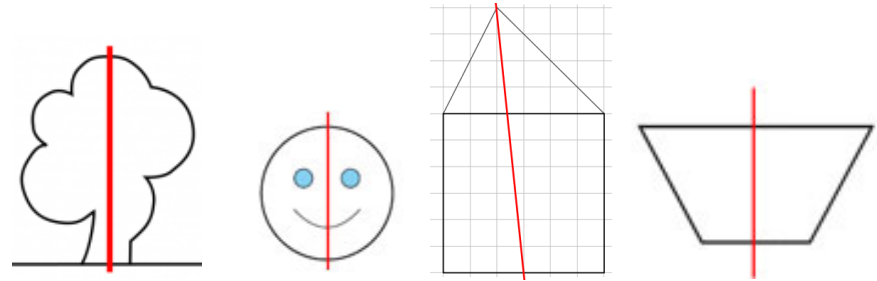


Exercice :

Trace un carré de 6 cm de côté dans ton cahier et cherche ses axes de symétrie.


Exercice :

Entoure les figures pour lesquelles l'axe est un axe de symétrie :



Exercice :

Découpe ces figures et plie-les pour trouver leur axe de symétrie puis trace-le sur les figures :



Exercice :

Trace un carré de 6 cm de côté dans ton cahier et cherche ses axes de symétrie.