



Vendredi 19 juin 2020

CALCUL MENTAL : ajouter 11 (pré requis : savoir ajouter 10)

Dire : « tu sais déjà ajouter 10 à un nombre. Rappelle moi comment on fait ? »

Votre enfant doit dire « on rajoute 1 au chiffre des dizaines, les unités ne changent pas. »

S'il ne sait plus avec le matériel des dizaines  et des unités . Lui demander de faire le nombre 35. Puis de rajouter 10 (donc une dizaine) et lui demander de dire de quel nombre il s'agit (45). Puis lui dire : « tu avais 35 et encore 10 ça fait 45. En mathématiques on dit $35+10=45$.


Recommencer avec $28+10=$

$63+10=$

$75+10=$

$17+10$

Dire « maintenant tu vas apprendre à ajouter 11 »

Montrez , demandez combien il y a de cubes ?

Montrez  et les rajoutez au 24.

Demandez à votre enfant comment il va faire pour trouver combien il y a de cubes maintenant ?

Votre enfant doit dire qu'il rajoute la dizaine du 11 à 24, ça fait 34 et qu'après il rajoute l'unité du 11 à 34 et ça fait 35. Donc $24 + 11 = 24+10+1=35$.

Votre enfant doit savoir que pour ajouter 11 il faut ajouter 10 puis 1 parce que 11 c'est $10+1$.

Recommencer avec $26+11$; $32+11$; $68+11$

PROBLEMES sur ajouter 11

Votre enfant cherche sur l'ardoise, écris une addition et dit une phrase réponse.

1. Dans ma tirelire il y a 35 euros. Pour mon anniversaire je reçois 11 euros. Combien y a-t-il d'euros dans ma tirelire ? $(35+11=46)$
2. Dans la classe il y a 14 garçons et 11 filles. Combien y a-t-il d'élèves dans la classe ? $(14+11=25)$
3. Le pion est sur la case 57, Pauline avance de 11 cases. Sur quelle case arrive-t-il ? $(57+11=68)$
4. Marie a 44 perles. Patricia lui en donne 11. Combien Marie a-t-elle de perles maintenant ? $(44+11=55)$
5. Fabrice a 75 billes. Il en gagne 11. Combien a-t-il de billes maintenant ? $(75+11=86)$