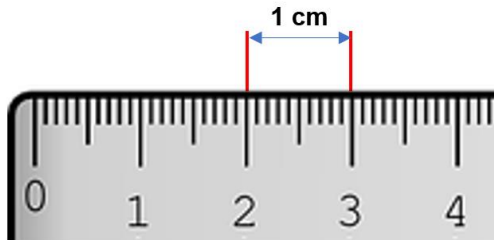


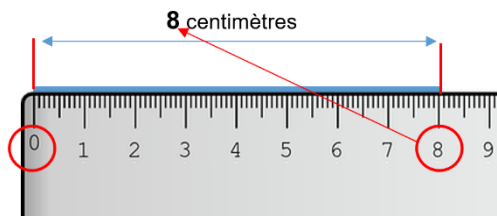
Leçon 16 : Les mesures de longueur

Pour mesurer une longueur, on utilise une règle.



Pour mesurer un segment :

Pour mesurer, je pose le « 0 » de la règle à l'extrémité de l'objet et je regarde la graduation qui correspond à l'autre extrémité de l'objet :



Il existe aussi le **mètre** pour mesurer, ou le **kilomètre**.

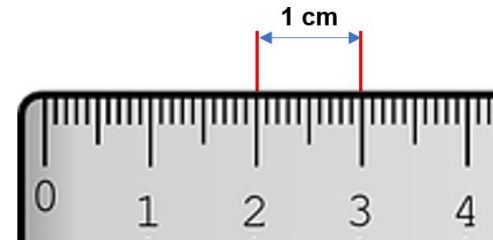
1 mètre = 100 centimètres



<https://huit.re/CPlacon16>

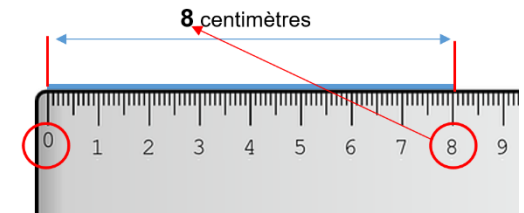
Leçon 16 : Les mesures de longueur

Pour mesurer une longueur, on utilise une règle.



Pour mesurer un segment :

Pour mesurer, je pose le « 0 » de la règle à l'extrémité de l'objet et je regarde la graduation qui correspond à l'autre extrémité de l'objet :



Il existe aussi le **mètre** pour mesurer, ou le **kilomètre**.

1 mètre = 100 centimètres



<https://huit.re/CPlacon16>