

Code/décode ★

1	2	3	4	5
6	7	8	9	10
11	12	13	14	15




Comment faire ?




2 cas :

Il faut **coder** le chemin :

1/ Je prends le matériel. Je pose le chien, la niche et la viande sur les cases indiquées.

2/ Je cherche le trajet pour que le chien aille sur la case de la viande puis dans sa niche. Il y a un nombre maximum de cases.

	A	B	C
1			
2			
3			
4			

Le chemin va être :   

Il faut **décoder** le chemin :

1/ Je prends la grille complétée
« Décode »

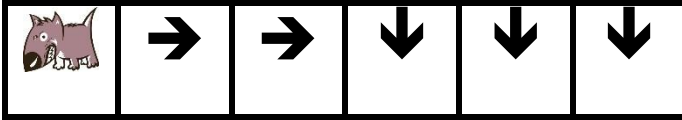
2/ Je me place sur l'animal indiqué (Médor le chien gris, Lulu le chien noir et blanc, Minou le chat ou l'écureuil). Je décode le chemin et j'entoure la case où j'arrive parmi les trois propositions.



Décode




4

Entoure l'endroit où arrive Médor :





Code

5

 : (A , 1) -  : (C ; 3) -  : (E ; 4)

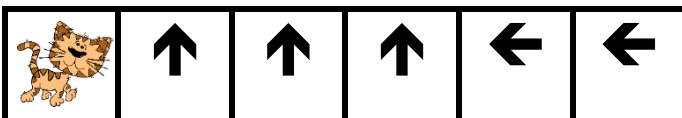
Chemin :



Décode

6




Entoure l'endroit où arrive Minou :





Code

7

 : (B, 3) -  : (E ; 4) -  : (D ; 2)

Chemin :


--	--	--	--	--	--	--	--




Décode

8




Entoure l'endroit où arrive Lulu :

	→	→	↑	↑	↑	→
---	---	---	---	---	---	---



Code

9

 : (B, 5) -  : (A ; 3) -  : (D ; 2)

Chemin :


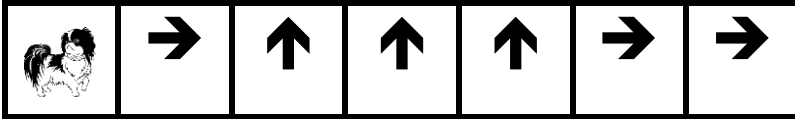
--	--	--	--	--	--	--	--



Décode




10

Entoure l'endroit où arrive Lulu :





Code

11

 : (C, 2) -  : (B ; 1) -  : (E ; 2)

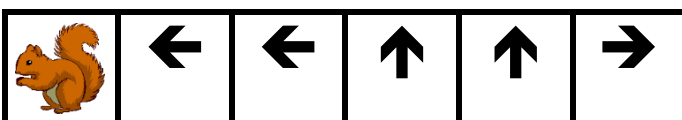
Chemin :



Décode

12




Entoure l'endroit où arrive l'écureuil:





Code

13

 : (D, 4) -  : (C ; 3) -  : (A ; 1)

Chemin :


--	--	--	--	--	--	--	--




Décode

14




Entoure l'endroit où arrive Médor:

	→	→	→	↑	↑	→	→	→	↑
---	---	---	---	---	---	---	---	---	---



Code

15

 : (E, 1) -  : (C ; 3) -  : (A ; 5)




Chemin :

--	--	--	--	--	--	--	--



Code

16




 : (E, 1) -  : (C ; 3) -  : (A ; 5)

Chemin :



Code

17

 : (E, 1) -  : (C ; 3) -  : (A ; 5)

Chemin :

--	--	--	--	--	--	--	--