

MATHEMATIQUES. CALCUL POSE / ADDITIONS AVEC RETENUE 2


Tu sais poser et effectuer des additions avec retenues.

Pose et calcule. Commence toujours par les unités et n'oublie pas la retenue.
Attention, la retenue n'est pas toujours 1 !


$$26 + 17 + 35 = \dots$$

Tu peux dessiner les dizaines et les unités pour t'aider.
N'oublie pas d'entourer la nouvelle dizaine.

dizaines	unités
d	u
○	
2	6
→ +	.
→ +	.
→ +	.
.	.




→



→

+



→

+

.

.

.

.

$39+35+17=...$


Tu peux dessiner les dizaines et les unités pour t'aider.
N'oublie pas d'entourer les nouvelles dizaines.

dizaines	unités
d	u



3

9



3

5



+

.

.

.

.

$58+26+9=...$

Tu peux dessiner les dizaines et les unités pour t'aider.
N'oublie pas d'entourer les nouvelles dizaines.

dizaines	unités
d	u



.

.



+

.

.



+

.

.

.

.

$16+51+27=...$

Tu peux dessiner les dizaines et les unités pour t'aider.
N'oublie pas d'entourer la nouvelle dizaine.

dizaines	unités
d	u



.

.



+

.

.



+

.

.

.

.

$24+16+25+15=...$

Tu peux dessiner les dizaines et les unités pour t'aider.
N'oublie pas d'entourer les nouvelles dizaines.

dizaines	unités
d	u



.

.



+

.

.



+

.

.



+

.

.

.

.

$8+16+59=...$

Tu peux dessiner les dizaines et les unités pour t'aider.
N'oublie pas d'entourer les nouvelles dizaines.

dizaines	unités
d	u



→

.

.

→

+

.

.

→

+

.

.

.

.

$24+16+9+8=...$

Tu peux dessiner les dizaines et les unités pour t'aider.
N'oublie pas d'entourer les nouvelles dizaines.

dizaines	unités
d	u



→

.

.

→

+

.

.

→

+

.

.

→

+

.

.

.

.

$26+17+35$

	d	u
	1	
	2	6
+	1	7
+	3	5
<hr/>		
	7	8

$39+35+17$

	d	u
	2	
	3	9
	3	5
+	1	7
<hr/>		
	9	1

$58+26+9$

	d	u
	2	
	5	8
+	2	6
+		9
<hr/>		
	9	3

$16+51+27$

	d	u
	1	
	1	6
+	5	1
+	2	7
<hr/>		
	9	4

$8+16+59$

	d	u
	2	
		8
	1	6
+	5	9
<hr/>		
	8	3

$24+16+25+15$

	d	u
	2	
	2	4
+	1	6
+	2	5
+	1	5
<hr/>		
	8	0

$24+16+9+8$

	d	u
	2	
	2	4
+	1	6
+		9
+		8
<hr/>		
	5	7