

- Rituel « copie » pages 54-55

- Français : production d'écrits

-N'oublie pas d'ouvrir le fichier intitulé « calligramme »

-réalise ton calligramme sur une feuille blanche

- Français : Lecture compréhension

Exercice 1

Par une claire journée de printemps, le petit campagnol décide de partir à la recherche de nourriture. Prudent, il avance le museau hors de sa galerie puis fait quelques pas sur les feuilles couvertes de rosée. Hélas, il n'a pas vu le renard à l'affût derrière les rochers qui bordent l'étang.

FH/MR

Que va-t-il se passer ?

.....
.....
.....

Exercice 2

Pendant tout l'automne, la femelle écureuil descend chaque jour de son arbre afin de

Elle aura ainsi de quoi manger tout l'hiver.

Exercice 3

Malgré un ciel chargé de nuages noirs menaçants, nombreux sont les sorcières, clowns, princesses, cow-boys,... tous plus beaux les uns que les autres, à défiler dans les rues du centre ville pour carnaval. Entre averses et éclaircies, il faut jongler... Costumés et bariolés, petits et grands parcourent les rues au rythme de la fanfare. Les cracheurs de feu s'appêtent à enflammer Monsieur Carnaval **quand**

FH/MR

.....
.....
.....

Exercice 4

C'était une vieille, très vieille sorcière. Elle habitait une maisonnette au fond des bois, près de la source des trois rochers.

Un jour, un jeune homme passa devant sa fenêtre. Il était beau. Plus beau que les princes des contes de fées. Et bien plus beau que les cow-boys des publicités télévisées.

La vieille sorcière fut tout d'abord émue, puis troublée, et enfin amoureuse. Plus amoureuse qu'elle ne l'avait jamais été. Naturellement, elle ne ferma pas l'œil de la nuit.

Et au matin, ...

D'après « La sorcière amoureuse », Histoires pressées B.Friot

.....
.....

- Français : Poésie

-voir les consignes sur la journée du vendredi 9 avril 2021

- Musique, « Ipo i taï taï é »
- Mathématiques : Calcul mental

50+= 1 000

25+= 1 000

34+= 1 000

12+= 1 000

47+= 1 000





- Mathématiques : Problèmes

Les enfants préparent quatre gâteaux. Il faut 120g de farine pour chaque gâteau. La maitresse leur a déjà donné 200g. **Combien de farine leur manque-t-il ?**

- Mathématiques : Géométrie

Sur la feuille de papier pointé ci- dessous tracer :

- un carré dont les sommets sont des points de la fiche
- deux rectangles dont les sommets sont des points de la fiche
- un losange dont les sommets sont les points de la fiche



- Mathématiques : Grandeurs et mesures

Ecris un objet :

-qui est plus léger qu'un crayon :

-qui est plus lourd que toi :

-qui est plus lourd qu'une voiture :

(Précise l'unité que tu utilises à chaque fois pour peser l'objet que tu as écrit).

- EPS, défi « Réaliser en 1 minute un record de saut en croix »